



रोल नं.

--	--	--	--	--	--	--

Roll No.

--	--	--	--	--	--	--

परीक्षार्थी कोड को उत्तर-पुस्तिका के मुख-पृष्ठ पर अवश्य लिखें ।

Candidates must write the Code on the title page of the answer-book.

- कृपया जाँच कर लें कि इस प्रश्न-पत्र में मुद्रित पृष्ठ 8 हैं तथा 2 पृष्ठ मानचित्रों के हैं ।
- प्रश्न-पत्र में दाहिने हाथ की ओर दिए गए कोड नम्बर को छात्र उत्तर-पुस्तिका के मुख-पृष्ठ पर लिखें ।
- कृपया जाँच कर लें कि इस प्रश्न-पत्र में 26 प्रश्न हैं ।
- कृपया प्रश्न का उत्तर लिखना शुरू करने से पहले, प्रश्न का क्रमांक अवश्य लिखें ।
- इस प्रश्न-पत्र को पढ़ने के लिए 15 मिनट का समय दिया गया है । प्रश्न-पत्र का वितरण पूर्वाह्न में 10.15 बजे किया जाएगा । 10.15 बजे से 10.30 बजे तक छात्र केवल प्रश्न-पत्र को पढ़ेंगे और इस अवधि के दौरान वे उत्तर-पुस्तिका पर कोई उत्तर नहीं लिखेंगे ।
- Please check that this question paper contains 8 printed pages and 2 pages of maps.
- Code number given on the right hand side of the question paper should be written on the title page of the answer-book by the candidate.
- Please check that this question paper contains 26 questions.
- **Please write down the Serial Number of the question before attempting it.**
- 15 minutes time has been allotted to read this question paper. The question paper will be distributed at 10.15 a.m. From 10.15 a.m. to 10.30 a.m., the students will read the question paper only and will not write any answer on the answer-book during this period.

भूगोल (सैद्धान्तिक)

GEOGRAPHY (Theory)

निर्धारित समय : 3 घण्टे

Time allowed : 3 hours

अधिकतम अंक : 70

Maximum Marks : 70



- (i) प्रश्नों की कुल संख्या **26** हैं ।
- (ii) **सभी** प्रश्न अनिवार्य हैं ।
- (iii) प्रत्येक प्रश्न के अंक उसके सामने अंकित हैं ।
- (iv) प्रश्न संख्या **1 – 10** तक अति लघु-उत्तर वाले प्रश्न हैं । प्रत्येक प्रश्न का **1** अंक है । इनमें से प्रत्येक प्रश्न का उत्तर **20** शब्दों से अधिक का नहीं होना चाहिए ।
- (v) प्रश्न संख्या **11 – 20** तक लघु-उत्तर वाले प्रश्न हैं । प्रत्येक प्रश्न के **3** अंक हैं । इनमें से एक प्रश्न मूल्य-आधारित है । इनमें से प्रत्येक प्रश्न का उत्तर **80** शब्दों से अधिक का नहीं होना चाहिए ।
- (vi) प्रश्न संख्या **21 – 25** तक दीर्घ-उत्तर वाले प्रश्न हैं । प्रत्येक प्रश्न के **5** अंक हैं । इनमें से प्रत्येक प्रश्न का उत्तर **150** शब्दों से अधिक का नहीं होना चाहिए ।
- (vii) प्रश्न संख्या **26** मानचित्रों पर दिए गए भौगोलिक लक्षणों को पहचानने और स्थिति दिखाने एवं नामांकन करने से संबंधित है ।
- (viii) **संसार** और **भारत** के दिए गए रेखा-मानचित्रों को अपनी उत्तर-पुस्तिका के बीच में अवश्य संलग्न कीजिए ।
- (ix) रेखा-मानचित्र बनाने के लिए **साँचों** या **स्टेंसिलों** के प्रयोग की अनुमति दी जाती है ।

General Instructions :

- (i) *There are **26** questions in all.*
- (ii) ***All** questions are compulsory.*
- (iii) *Marks for each question are indicated against it.*
- (iv) *Questions No. **1 – 10** are very short-answer questions carrying **1** mark each. Answer to each of these questions should not exceed **20** words.*
- (v) *Questions No. **11 – 20** are short-answer questions carrying **3** marks each. Out of which one question is a value based question. Answer to each of these questions should not exceed **80** words.*
- (vi) *Questions No. **21 – 25** are long-answer questions carrying **5** marks each. Answers to each of these questions should not exceed **150** words.*
- (vii) *Question No. **26** is related to identification or locating and labelling of geographical features on maps.*
- (viii) *Outline maps of the **World** and **India** provided to you must be attached within your answer-book.*
- (ix) *Use of **templates** or **stencils** for drawing outline maps is allowed.*

2. जनसंख्या पिरामिड क्या प्रदर्शित करता है ? 1
 What does a population pyramid show ?
3. मुंबई में 'डब्बावाला सेवा' को आप किस प्रकार के क्रियाकलापों में शामिल करेंगे ? 1
 In which type of activities would you include 'Dabbawala Service' in Mumbai ?
4. किन्हीं दो व्यापारिक क्रियाकलापों का उल्लेख कीजिए, जिन्हें बाह्यस्रोतन में शामिल किया जाता है । $\frac{1}{2} + \frac{1}{2} = 1$
 Mention any two business activities which are included in outsourcing.
5. भारत के किस राज्य में जनसंख्या का घनत्व (2001) सबसे अधिक है ? 1
 Which State of India has the highest density of population (2001) ?
6. भारत के किस राज्य का मानव विकास सूचकांक में उच्चतम मूल्य आलेखित किया गया है ? 1
 Which State of India has recorded the highest value in the human development index ?
7. भारत में सन् 2001 में नगरीकरण का स्तर क्या था ? 1
 What was the level of urbanisation in India in 2001 ?
8. भारत में सड़कों के घनत्व के दो प्रमुख निर्धारक कौन-से हैं ? 1
 What are the two main determinants of density of roads in India ?
9. संचार की विभिन्न विधाओं को श्रेणियों में विभाजित करने के दो आधार कौन-से हैं ? $\frac{1}{2} + \frac{1}{2} = 1$
 What are the two bases of categorizing the different modes of communication ?
10. उत्पादन बढ़ाने के लिए कृषि में प्रयुक्त किन्हीं दो प्रदूषण उत्पादक घटकों के नाम बताइए, जिनसे जल प्रदूषित होता है । 1
 Mention any two pollution generating components, used to increase the production in agriculture, that pollute water.
11. "प्रकृति और मनुष्य इतने जटिल रूप से आपस में जुड़े हुए हैं कि हम उनको अलग नहीं कर सकते ।" कोई तीन उदाहरण देकर इस कथन की पुष्टि कीजिए । $3 \times 1 = 3$
 "Nature and humans are so intricately intertwined, we cannot separate them." Support this statement by giving any three examples.
12. गंगा नदी की किन्हीं दो प्रदूषित पटरियों के नाम बताइए । उनके प्रदूषण की प्रकृति का वर्णन कीजिए । $1 + 2 = 3$
 Name any two polluted stretches of river Ganga. Describe their nature of pollution.

Explain the role of Europeans in the development of plantation agriculture in tropical countries.

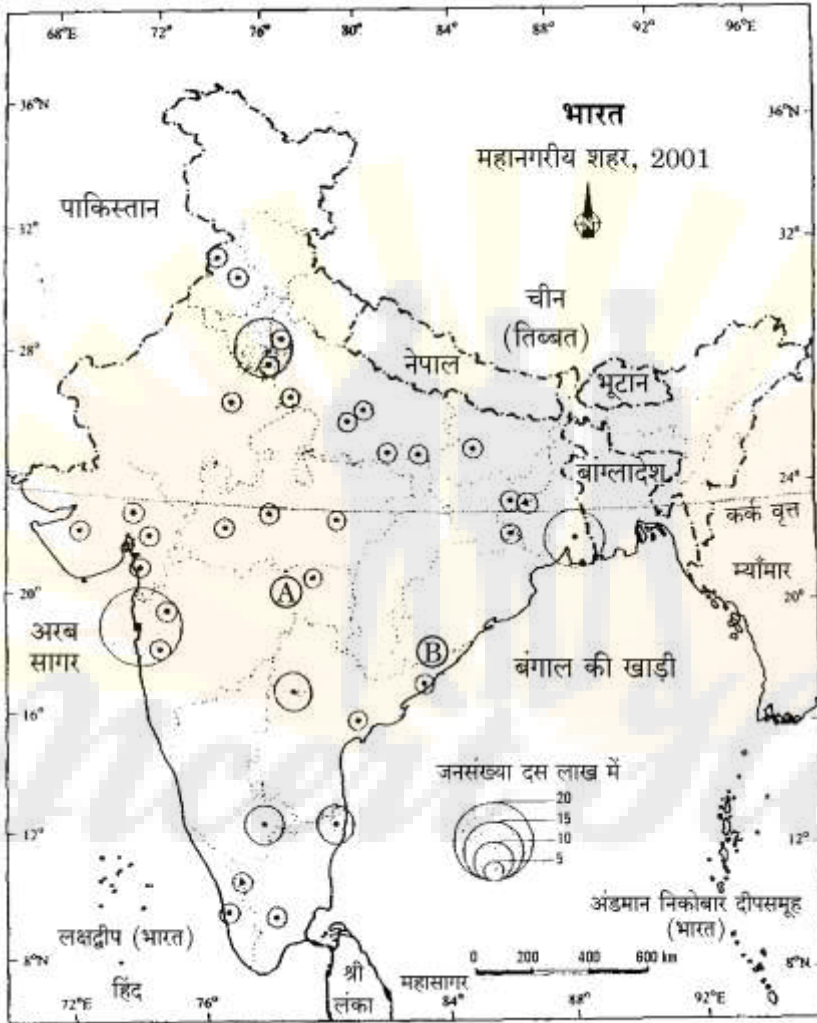
14. संसार के विभिन्न देशों के विकास में भारतीय प्रवासियों की सकारात्मक भूमिका की व्याख्या कीजिए ।

3

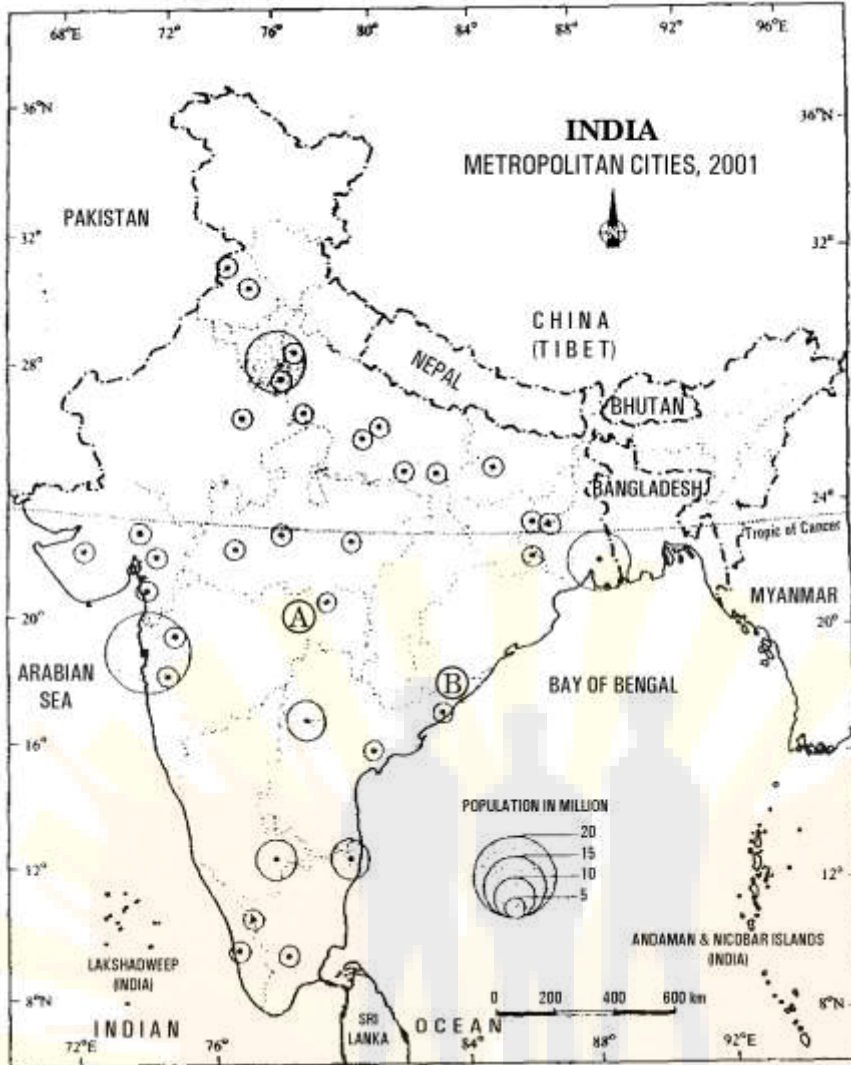
Explain the positive role of Indian migrants in the development of various countries of the world.

15. नीचे दिए गए भारत के महानगरीय शहरों को दिखाने वाले मानचित्र का सावधानीपूर्वक अध्ययन कीजिए और निम्नलिखित प्रश्नों के उत्तर दीजिए :

1+1+1=3



- (15.1) (A) और (B) द्वारा अंकित महानगरों को पहचानिए और उनके नाम लिखिए ।
 (15.2) उत्तर-पूर्वी भारत के किन्हीं दो राज्यों के नाम लिखिए, जिनमें कोई महानगर नहीं है ।
 (15.3) 'मेगा नगर' शब्द की परिभाषा दीजिए ।



- (15.1) Identify and name the metropolitan cities marked as (A) and (B).
 (15.2) Name any two States of North-East India, which do not have a metropolitan city.
 (15.3) Define the term 'mega city'.

नोट : निम्नलिखित प्रश्न केवल दृष्टिबाधित परीक्षार्थियों के लिए, प्रश्न संख्या 15 के स्थान पर है :

Note : The following question is for the **Visually Impaired Candidates** only, in lieu of Q. No. 15 :

‘मेगा नगर’ शब्द की परिभाषा दीजिए । तमिलनाडु और केरल के एक-एक महानगर का नाम बताइए ।

1+2=3

Define the term 'mega city'. Name one metropolitan city each of Tamil Nadu and Kerala.

ए। नारण ल कार तीन उदाहरण देकर इस कथन को स्पष्ट कीजिए ।

3×1=3

“Land use in a region, to a large extent, is influenced by the nature of economic activities carried out in that region.” Explain the statement by giving any three examples from India.

17. जल का सदुपयोग और संरक्षण क्यों अनिवार्य है ? किन्हीं तीन कारणों की व्याख्या कीजिए ।

3×1=3

Why is efficient use and conservation of water essential ? Explain any three reasons.

18. अधात्विक खनिजों की किन्हीं तीन विशेषताओं का वर्णन कीजिए ।

3×1=3

Describe any three characteristics of non-metallic minerals.

19. “सूखा संभावी क्षेत्र विकास कार्यक्रम” की किन्हीं तीन विशेषताओं की व्याख्या कीजिए ।

3×1=3

Explain any three characteristics of “Drought Prone Area Programme”.

20. उन मानव मूल्यों की व्याख्या कीजिए जो किसी देश के लोगों को सार्थक जीवन देने के लिए आवश्यक होते हैं ।

3×1=3

Explain the human values that are needed to give a meaningful life to the people of a country.

21. विनिर्माण का क्या अर्थ है ? संसार में आधुनिक विनिर्माण के मुख्य संकेन्द्रणों का वर्णन कीजिए ।

1+4=5

What is meant by manufacturing ? Describe the major concentrations of modern manufacturing in the world.

22. संसार में स्थल परिवहन की किन्हीं पाँच विशेषताओं को स्पष्ट कीजिए ।

5×1=5

Explain any five characteristics of land transport in the world.

23. ‘रेशम मार्ग’ किसे कहते हैं ? उसकी किन्हीं चार विशेषताओं का वर्णन कीजिए ।

1+4=5

What is the ‘Silk Route’ ? Describe its any four characteristics.

24. ज्यामितिक आकृति के आधार पर वर्गीकृत ग्रामीण बस्तियों के किन्हीं पाँच प्रकारों का वर्णन कीजिए ।

5×1=5

Describe any five rural settlement types classified on the basis of their geometrical forms and shapes.

“The pattern of the composition of India’s import has been changing over the years.” Support this statement with any five suitable arguments.

26. (26.1) संसार के दिए गए राजनीतिक रेखा-मानचित्र में, चार लक्षण A, B, C एवं D दिखाए गए हैं : $4 \times \frac{1}{2} = 2$

- A. मानव विकास सूचकांक, 2003 में दक्षिण अमेरिका का उच्चतम मूल्य सूचकांक वाला देश
- B. पार-साइबेरियन रेलमार्ग का अन्तिम स्टेशन
- C. यूरोप का एक प्रमुख समुद्री पत्तन
- D. एक मेगा सिटी

इन लक्षणों को पहचानिए और प्रत्येक लक्षण के सामने खींची गई रेखा पर उसका सही नाम लिखिए।

(26.2) भारत के दिए गए राजनीतिक रेखा-मानचित्र में निम्नलिखित की स्थिति उपयुक्त चिह्नों से दिखाइए और उनके नाम लिखिए : $3 \times 1 = 3$

- (i) सबसे अधिक साक्षरता दर वाला राज्य
- (ii) उड़ीसा (ओडिशा) में स्थित लौह-अयस्क की एक खान
- (iii) कर्नाटक में स्थित तेल शोधन कारखाना (परिष्करणशाला)

(26.1) In the given political outline map of the **World**, four features A, B, C and D have been shown :

- A. The country having the highest rank in Human Development Index in 2003 in South America
- B. The Terminal Station of Trans-Siberian Railway
- C. A major sea-port of Europe
- D. A mega city

Identify these features and write their correct names on the lines marked near each feature.

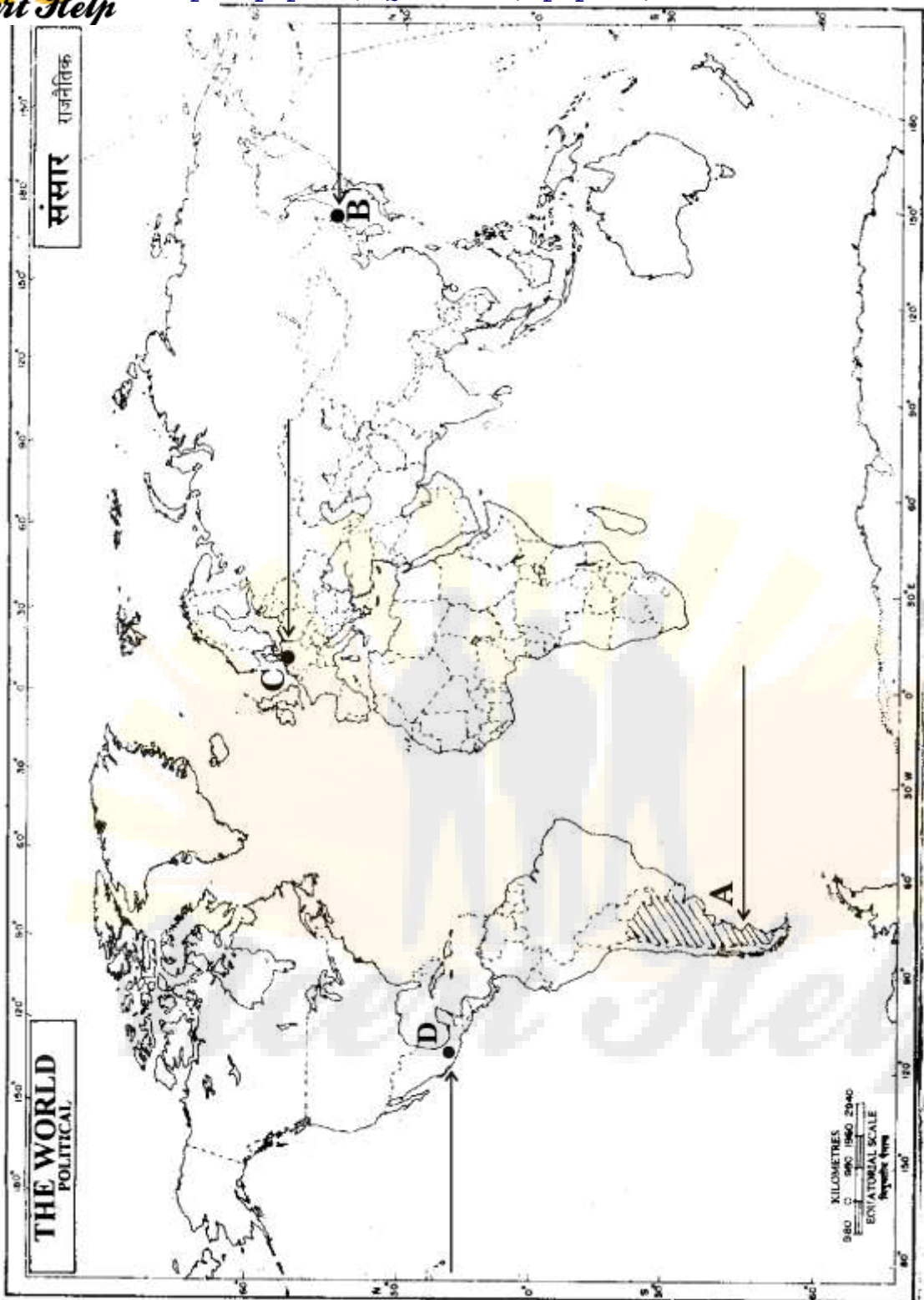
following with appropriate symbols :

- (i) The state having the highest literacy rate
- (ii) An iron-ore mine in Orissa (Odisha)
- (iii) The oil refinery located in Karnataka

नोट : निम्नलिखित प्रश्न केवल दृष्टिबाधित परीक्षार्थियों के लिए, प्रश्न संख्या 26 के स्थान पर हैं :

Note : The following questions are for the **Visually Impaired Candidates** only, in lieu of Q. No. 26 :

- (26.1) मानव विकास सूचकांक, 2003 में दक्षिण अमेरिका में उच्चतम मूल्य सूचकांक वाले देश का नाम बताइए ।
 - (26.2) पार-साइबेरियन रेलमार्ग के पूर्वी अन्तिम स्टेशन का नाम बताइए ।
 - (26.3) जर्मनी का प्रमुख समुद्री पत्तन कौन-सा है ?
 - (26.4) भारत के उच्चतम साक्षरता दर वाले राज्य का नाम बताइए ।
 - (26.5) कर्नाटक में तेल शोधन कारखाना (परिष्करणशाला) कहाँ स्थित है ? 5×1=5
-
- (26.1) Name the country having the highest rank in Human Development Index in 2003 in South America.
 - (26.2) Name the eastern terminal station of Trans-Siberian Railway.
 - (26.3) Which is the major sea-port of Germany ?
 - (26.4) Name the state of India having the highest literacy rate.
 - (26.5) Where is the oil refinery of Karnataka located ?





Visit www.ncerthelp.com For All NCERT Solutions,
CSBE Sample papers, Question, papers, Notes For Class 6 to 12



Please Visit www.ncerhelp.com For All Videos Lectures of all Subjects

भारत का रेखा-मानचित्र (राजनीतिक)
Outline Map of India (Political)

